

Plier par ici

Coller ici

Signature du Candidat

NOM : ..... PRENOMS : .....  
Né(e) le : ..... à .....  
Centre : ..... Date : .....

Signature du 1<sup>er</sup> Surveillant      Signature du 2<sup>ème</sup> Surveillant

Coller ici

Coller ici - Coller ici

EXAMEN DU CEPE SESSION 2017

Signature du Correcteur      Note...../50      Signature de l'harmonisateur

Début : 9 h 30 mn – Durée 1 h      EVEIL AU MILIEU      ZONE : II

HISTOIRE-GEOGRAPHIE

1- Ecris Vrai ou Faux :

- a) La colonie est dirigée par le Gouverneur.
- b) Le canton est dirigé par le Commandant de cercle.
- c) La subdivision est dirigée par le Chef du village.

2- Mets une croix dans la case qui correspond selon le modèle.

	Ressources minières	Sources d'énergie	Matières premières
Le gaz			
Le coton			X
Le nickel			
Le pétrole			

3- Parmi ces produits cités entoure celui qui est en relation avec l'industrie du textile :

le savon – la voiture – la chemise – le chocolat.

E.D.H.C

1- Ecris Vrai ou Faux :

- a) Le Premier Ministre est nommé par le Président.
- b) Le peuple élit les Députés.
- c) Le Président vote les lois.
- d) Le Sous-préfet est nommé par le Préfet.

2- Complete avec les mots suivants : droit à l'éducation ; soldat ; champêtres.

Tout enfant a ..... pour mieux être utile à la société. Pour cela, il ne doit pas être utilisé pour les travaux ..... ou être un enfant .....

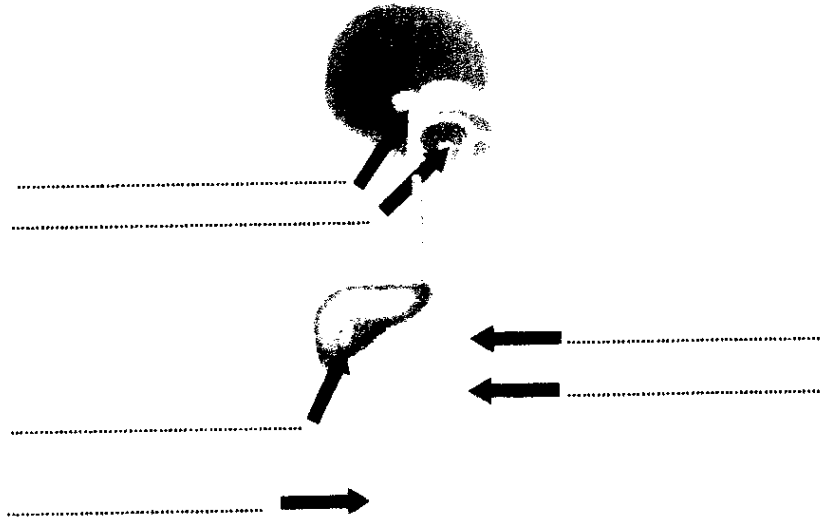
# N'ouvrir que pendant la délibération

NE RIEN INSCRIRE ICI

## SCIENCES ET TECHNOLOGIE

### Exercice 1

1- Annote le schéma des organes producteurs de sucs digestifs.



### Exercice 2

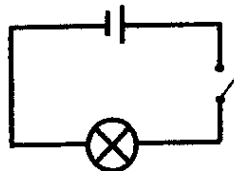
1- Coche le danger du courant électrique.

a) Le disjoncteur

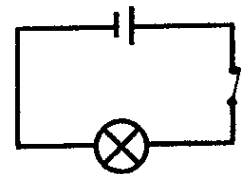
b) L'électrocution

c) Les fusibles

2- Complète le schéma avec les mots « fermé » ou « ouvert »



Le circuit électrique est.....



Le circuit électrique est .....

### Exercice 3

Ton ami de classe habite dans un quartier. Il ya beaucoup de maquis qui jouent de la musique, qui émettent des sons aigus et forts. Les voitures klaxonnent jour et nuit. Tous ces bruits l'empêchent de dormir.

1- Relève dans le texte les sources d'agression du système nerveux de ton ami.

2- Cite deux conséquences liées à ces agressions.

3- Propose deux moyens d'entretien du système nerveux de ton ami.

.....

.....

.....

.....

.....

.....